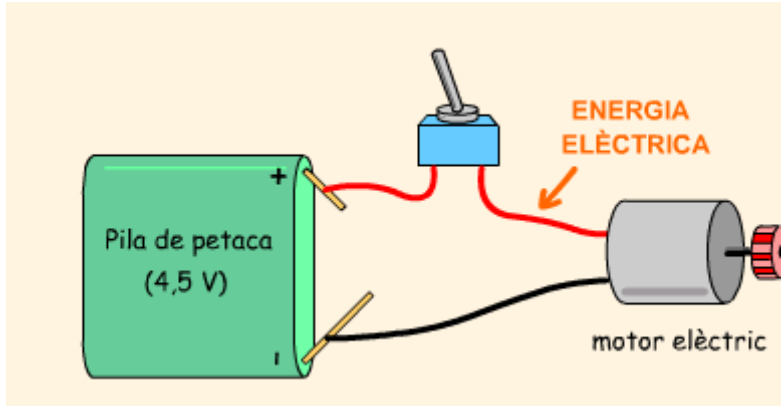


Pràctica-6: Circuit-Motor

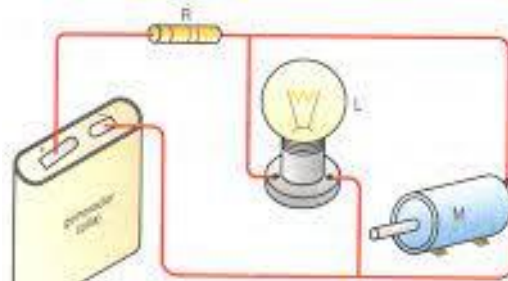
1. Introducció:.....Que pretens fer en aquesta pràctica?

2. Objectius:.....Que pretens demostrar en aquesta pràctica?

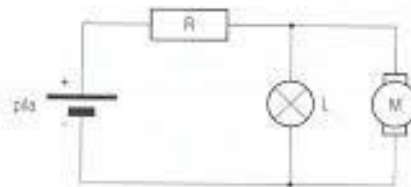
3. Experimentació:



Circuit-Motor-1	Aplicació de fórmules	Comprovació Téster
Quin voltatge hi ha al motor?		
Quina és la resistència del motor ?		
Quina intensitat hi passa pel motor?		
Quin és el voltatge total ?		
Quina és la resistència total ?		
Quina és la intensitat total ?		



a) Aspecto real



b) Representación simbólica

Circuit-Motor-2	Aplicació de fórmules	Comprovació Téster
Quin voltatge hi ha a la bombeta i al motor?		
Quina és la resistència de la bombeta i del motor ?		
Quina intensitat hi passa per la bombeta i pel motor?		
Quin és el voltatge total ?		
Quina és la resistència total ?		
Quina és la intensitat total ?		

4. **Anàlisi:**.....Analitza el seu funcionament.
5. **Simulacions:**.....Simula aquests circuits amb el Crocodile/ TinkerCad i enganxa-ho aquí.
6. **Fotos:**.....Mostra un reportatge fotogràfic del muntatge
7. **Conclusions:**.....Que has après d'aquesta pràctica ?