






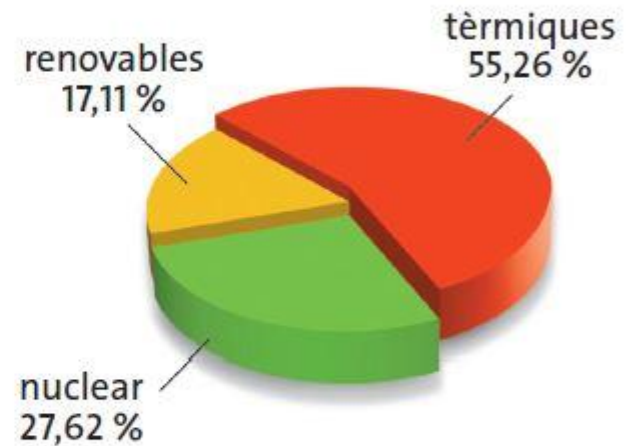


L'energia elèctrica



<i>Centrals d'energia primària no renovable</i>		
Tipus	Nom	Energia primària
tèrmiques	tèrmiques convencionals 	carbó fuel gas natural
	nuclears 	urani plutoni
<i>Centrals d'energia primària renovable</i>		
Tipus		Energia primària
hidràuliques		energia potencial i cinètica de l'aigua
solars		energia de les radiacions solars
eòliques		energia del vent.
mareomotrius		energia de les onades i de les mares
geotèrmiques		energia de la temperatura de l'interior de la Terra



Anàlisi

Observa el mapa de les principals centrals elèctriques a Espanya i contesta les preguntes següents:

- a) On es troben la majoria de les centrals tèrmiques de carbó?
- b) On creus que es troben les centrals hidràuliques?
- c) Elabora una taula amb les centrals de la teva comunitat. Pots indicar-hi la localització i de quin tipus són.